

Test na kartę rowerową

6

To jest test jednokrotnego wyboru. Zawiera 20 pytań. Odpowiedzi należy umieścić na karcie odpowiedzi, stawiając znak X w odpowiednim polu. Aby test można było uznać za zaliczony, należy poprawnie odpowiedzieć na 16 pytań. Podwójne skreślenia przy jednym pytaniu będą traktowane jako błąd. Czas rozwiązywania testu wynosi 35 minut.

Życzymy powodzenia.

1. Kierujący rowerem, który korzysta z chodnika:

- a) jest osobą pieszą,
- b) musi ustępować pierwszeństwa pieszym,
- c) jest kierującym.

2. Za pieszego w ruchu drogowym uważa się:

- a) osobę przeprowadzającą dzieci przez drogę,
- b) osobę pchającą wózek z dzieckiem,
- c) rowerzystę powyżej 10. roku życia, jadącego chodnikiem.

3. Kierujący rowerem włącza się do ruchu, gdy:

- a) wjeżdża z jezdni na chodnik,
- b) wjeżdża na drogę z pierwszeństwem przejazdu z drogi podporządkowanej,
- c) wyjeżdża z drogi gruntowej na drogę twardą.

4. Omijanie to:

- a) przejeżdżanie obok uczestnika ruchu drogowego poruszającego się w tym samym kierunku,
- b) przejeżdżanie obok uczestnika ruchu drogowego poruszającego się w przeciwnym kierunku.
- c) przejeżdżanie obok stojącego uczestnika ruchu drogowego lub przeszkody.

5. Zabrania się wchodzenia na jezdnię:

- a) na przejściach dla pieszych,
- b) bezpośrednio przed nadjeżdżającym pojazdem, z wyjątkiem przejść dla pieszych,
- c) bezpośrednio przed nadjeżdżającym pojazdem, w tym na przejściach dla pieszych.

6. Gdy policjant stoi bokiem do nadjeżdżających pojazdów, to:

- a) mogą one wjechać na skrzyżowanie – mają wolny przejazd,
- b) nie mogą one wjechać na skrzyżowanie,
- c) mogą one wjechać na skrzyżowanie, ale tylko skręcić w prawo.

7. Światło odblaskowe z tyłu roweru:

- a) może być dowolnego koloru,
- b) musi być czerwone, o dowolnym kształcie,
- c) musi być czerwone lub pomarańczowe, o kształcie innym niż trójkąt.

8. Dalszego poruszania się pieszych zabrania znak:

a)



b)



c)



9. Gdy kierujący rowerem zobaczy przedstawiony znak, ma obowiązek:



- a) ustąpić pierwszeństwa pojazdom nadjeżdżającym z prawej strony,
- b) bezwzględnie się zatrzymać,
- c) ustąpić pierwszeństwa wszystkim pojazdom.

10. Przedstawiony znak oznacza:



- a) nakaz skrętu w prawo,
- b) zakaz skrętu w prawo,
- c) nakaz jazdy z prawej strony znaku.

11. Przedstawiony znak oznacza, że kierujący pojazdem:



- a) wyjeżdża ze strefy zamieszkania,
- b) ma pierwszeństwo przed pieszymi,
- c) nie może przekroczyć 20 km/h.

12. Przedstawiony znak:



- a) zezwala na wjazd od strony ustawienia znaku,
- b) zakazuje wjazdu od strony ustawienia znaku,
- c) tylko rowerzystom zezwala na wjazd od strony ustawienia znaku.

13. Złamaną rękę należy:

- a) nastawić,
- b) pozostawić bez zmian i podać środek przeciwbólowy,
- c) unieruchomić.

14. Aby wezwać pomoc z telefonu komórkowego, należy zadzwonić pod numer alarmowy:

- a) 112,
- b) 999,
- c) 998.

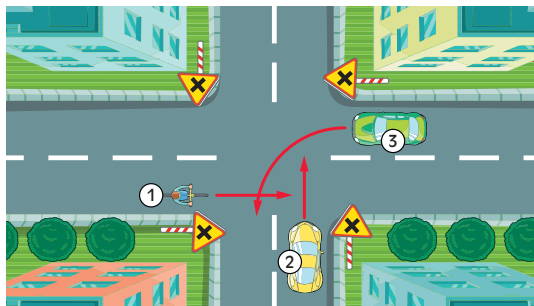
15. Jeżeli w ranie znajduje się ostry przedmiot, należy:

- a) natychmiast go wyjąć,
- b) pozostawić go w ranie,
- c) wyjąć go i nałożyć jałowy opatrunek.

16. W przypadku poparzenia dłoni należy w pierwszej kolejności:

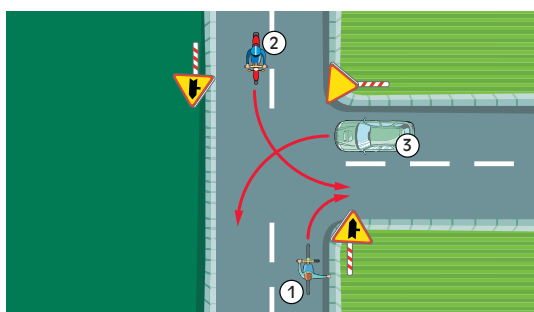
- a) posmarować dłoń kremem,
- b) zdjąć pierścionki i obrączki,
- c) zdezynfekować.

17. W przedstawionej sytuacji kierujący rowerem przejeżdża:



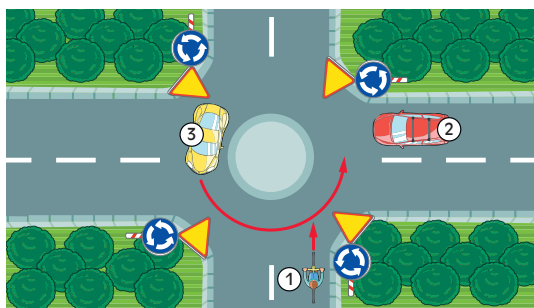
- a) jako pierwszy,
- b) przed pojazdem 3,
- c) jako ostatni.

18. W przedstawionej sytuacji kierujący rowerem przejeżdża:



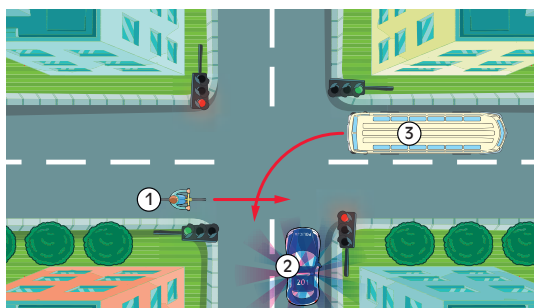
- a) przed pojazdami 2 i 3,
- b) przed pojazdem 2,
- c) jako ostatni.

19. W przedstawionej sytuacji kierujący rowerem:



- a) przejeżdża jako pierwszy,
- b) ustępuje pierwszeństwa pojazdowi 3,
- c) ustępuje pierwszeństwa pojazdowi 2.

20. W przedstawionej sytuacji kierujący rowerem przejeżdża:



- a) jako pierwszy,
- b) przed pojazdem 3,
- c) jako ostatni.